

Concursul interjudețean de matematică "ȘTEFAN VELOVAN" -ediția a XIV-a

<Subiecte - clasa a III-a>

Partea I

1. Se dau numerele 1, 2, 3, 4, 5, 6, 7, 8 și fie a numărul din acest șir care are proprietatea că suma numerelor din fața lui este egală cu suma numerelor de după el. Se dau numerele 1, 2, 3, 4, 5, 6, 7, 8, 9, 10 și fie b numărul din acest șir care are proprietatea că produsul numerelor din fața lui este egal cu produsul numerelor de după el. Calculați $a + b$.

a) 10 | b) 11 | c) 12 | d) 13 | e) 15 | f) 18

2. Reconstituiți adunarea și aflați cifra x :

$$\begin{array}{rcccccccc} & F & A & U & R & A & R & I & + \\ & & A & U & R & A & R & I & \\ & & & U & R & A & R & I & \\ & & & & R & A & R & I & \\ & & & & & A & R & I & \\ & & & & & & R & I & \\ & & & & & & & I & \\ \hline & 4 & 3 & 8 & x & 4 & 8 & 3 & \end{array}$$

a) 0 | b) 1 | c) 3 | d) 5 | e) 6 | f) 9

3. Pentru o serbare s-au confecționat crenguțe cu flori de măr. Câte floricele au pregătit în total cele 3 fetițe dansatoare, dacă fiecare dintre ele trebuia să țină în mână câte două rămurele, fiecare ramură având câte 3 crenguțe și pe fiecare crenguță fiind prinse câte 4 flori.

a) 36 | b) 48 | c) 60 | d) 64 | e) 72 | f) 76

4. Din 52 metri de stofă s-au confecționat 8 rochii și 10 fuste. Cât material este necesar pentru a confecționa 3 rochii și 5 fuste, dacă pentru o rochie și respectiv o fustă s-au folosit un număr întreg de metri de material?

a) 16 | b) 18 | c) 20 | d) 22 | e) 24 | f) 25

5. Câte numere de două cifre au suma cifrelor 9?

a) 6 | b) 7 | c) 8 | d) 9 | e) 10 | f) 11

6. Într-o pungă sunt bile roșii, galbene și albastre. Câte bile sunt în pungă, știind că 22 nu sunt roșii, 24 nu sunt galbene și 26 nu sunt albastre?

a) 30 | b) 36 | c) 48 | d) 50 | e) 62 | f) 72

Partea a II-a

1. Suma a 4 numere este 45. Găsiți numerele, știind că: dacă la primul număr adunăm 2, din cel de-al doilea scădem 2, pe al treilea îl înmulțim cu 2, iar pe al patrulea îl împărțim la 2, vom obține rezultate egale.

2. Scrieți numărul 100 folosind nouă cifre de 1 și operațiile obișnuite, apoi folosind nouă cifre de 2 și operațiile obișnuite, apoi folosind nouă cifre de 3 și operațiile obișnuite, ... și tot așa, folosind nouă cifre de 9 și operațiile obișnuite.

⁰Notă:

- Pentru Partea I se va scrie pe foaia de concurs numai varianta corectă, fără demonstrație. Fiecare răspuns corect va primi câte 10 puncte.
- Pentru Partea a II-a se cere demonstrația completă, pentru care se vor acorda maxim 30 puncte.
- Se acordă 10 puncte din oficiu.
- Timp de lucru 2 ore.

Concursul interjudețean de matematică "ȘTEFAN VELOVAN" -ediția a XIV-a

<Barem de evaluare și notare - clasa a III-a>

Oficiu _____ Total 10p

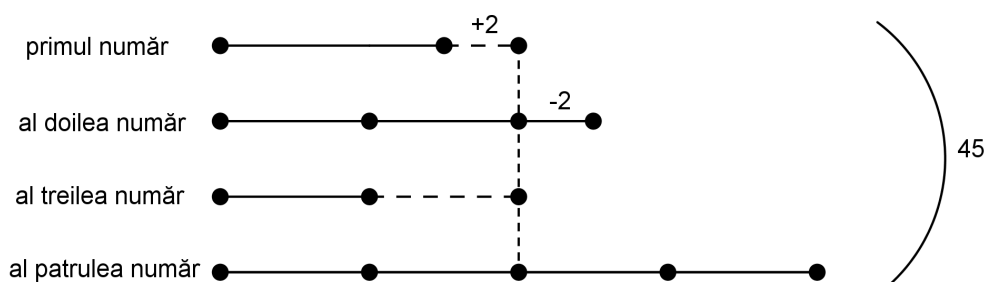
Partea I

1. d)	2. b)	3. e)	4. d)	5. d)	6. b)
-------	-------	-------	-------	-------	-------

_____ Total 60p

Partea a II-a

1.



- $\sqrt{45 : 9 = 5}$ (al treilea număr). 9p
 - $\sqrt{2 \times 5 - 2 = 8}$ (primul număr). 2p
 - $\sqrt{2 \times 5 + 2 = 12}$ (al doilea număr). 2p
 - $\sqrt{4 \times 5 = 20}$ (al patrulea număr). 2p
- _____ Total 15p

2. Exemplu:

- $\sqrt{111 - 11 + 1 - 1 + 1 - 1 = 100}$ 7p
 - $\sqrt{222 : 2 - 22 : 2 + 2 - 2 = 100}$ 1p
 - $\sqrt{333 : 3 - 33 : 3 + 3 - 3 = 100}$ 1p
 - $\sqrt{444 : 4 - 44 : 4 + 4 - 4 = 100}$ 1p
 - $\sqrt{555 : 5 - 55 : 5 + 5 - 5 = 100}$ 1p
 - $\sqrt{666 : 6 - 66 : 6 + 6 - 6 = 100}$ 1p
 - $\sqrt{777 : 7 - 77 : 7 + 7 - 7 = 100}$ 1p
 - $\sqrt{888 : 8 - 88 : 8 + 8 - 8 = 100}$ 1p
 - $\sqrt{999 : 9 - 99 : 9 + 9 - 9 = 100}$ 1p
- _____ Total 15p

Concursul interjudețean de matematică "ȘTEFAN VELOVAN" -ediția a XIV-a

<Subiecte - clasa a IV-a>

Partea I

1. Câte numere de cel mult trei cifre se pot forma cu cifrele 7 și 9?

a) 8 b) 12 c) 16 d) 14 e) 10 f) 18

2. Dacă $a \times b = 98$, $b \times c = 175$ și $c - a = 11$, atunci c este:

a) 15 b) 25 c) 35 d) 5 e) 7 f) 45

3. În adunarea

$$\begin{array}{rcccc} C & R & A & P & + \\ & C & R & A & \\ & & C & R & \\ & & & C & \\ \hline & 2 & 0 & 1 & 8 \end{array}$$

literele reprezintă cifre. Atunci litera P reprezintă cifra:

a) 0 b) 2 c) 4 d) 6 e) 7 f) 8

4. La un concurs se dau 12 probleme. Pentru fiecare problemă rezolvată corect se primesc 20 puncte, iar pentru fiecare problemă rezolvată greșit sau nerezolvată se scad 10 puncte. Câte probleme a rezolvat corect un elev care a avut 30 puncte la final?

a) 5 b) 4 c) 3 d) 6 e) 7 f) 8

5. Mama a lăsat celor 4 băieți un număr de prăjituri. Pe măsură ce se trezește, fiecare copil mănâncă jumătate din numărul prăjiturilor găsite plus încă una. Alex, fiind cel mai somnoros, s-a trezit ultimul și mai găsește o prăjitură. Câte prăjituri a pregătit mama?

a) 14 b) 22 c) 18 d) 10 e) 26 f) 30

6. Suma numerelor de trei cifre care au suma cifrelor 4 este:

a) 2010 b) 1610 c) 1700 d) 2018 e) 2100 f) 2110

Partea a II-a

1. Aflați cifra de pe locul 2018 a numărului 12345678910111213...20172018 obținut prin alipirea cifrelor numerelor de la 1 la 2018.

2. Bogdan așază un număr de pixuri în mod egal mai întâi în patru cutii, apoi în cinci cutii. Prima oară rămân 2 pixuri în afara cutiilor, iar a doua oară rămân 3 pixuri. Numărul pixurilor din fiecare cutie, în primul caz este cu 5 mai mare decât numărul pixurilor din fiecare cutie, în al doilea caz. Câte pixuri are Bogdan?

(Gazeta Matematică, nr. 11/2013)

⁰Notă:

- Pentru Partea I se va scrie pe foaia de concurs numai varianta corectă, fără demonstrație. Fiecare răspuns corect va primi câte 10 puncte.
- Pentru Partea a II-a se cere demonstrația completă, pentru care se vor acorda maxim 30 puncte.
- Se acordă 10 puncte din oficiu.
- Timp de lucru 2 ore.

Concursul interjudețean de matematică "ȘTEFAN VELOVAN" -ediția a XIV-a

<Barem de evaluare și notare - clasa a IV-a>

Oficiu _____ Total 10p

Partea I

1. d)	2. b)	3. f)	4. a)	5. b)	6. f)
-------	-------	-------	-------	-------	-------

_____ Total 60p

Partea a II-a

- 1.
- ✓ 9 numere de o cifră \rightarrow 9 cifre. 3p
 - ✓ 90 numere de 2 cifre $\rightarrow 90 \times 2 = 180$ cifre. 3p
 - ✓ $180 + 9 = 189$ 1p
 - ✓ $2018 - 189 = 1829$ 1p
 - ✓ $1829 : 3$ dă câtul 609 și restul 2. 2p
 - ✓ 609 numere de 3 cifre sunt 100, 101, ..., 708. 2p
 - ✓ urmează 709. 1p
 - ✓ Deci a 2018 cifră este 0. 2p
- _____ Total 15p

- 2.
- ✓ Așezăm mai întâi pixurile în patru cutii și rămân 2. 3p
 - ✓ Din fiecare cutie scoatem 5 pixuri ca să rămână același număr de pixuri ca în al doilea caz. 3p
 - ✓ Am scos $4 \times 5 = 20$ pixuri. 3p
 - ✓ Cum în al doilea caz trebuie să rămână 3 pixuri în afară, în a cincea cutie punem 19 pixuri. 3p
 - ✓ Deci $19 \times 5 + 3 = 98$ pixuri are Bogdan. 3p
- _____ Total 15p

Concursul interjudețean de matematică "ȘTEFAN VELOVAN" -ediția a XIV-a

<Subiecte - clasa a V-a>

1. Dacă $a^3 = 2^{0^8} + 2^{0^{8^1}} + 2^{1^{0^8}} + 2^{1^{8^0}} + 2^{8^{0^1}}$, atunci a este egal cu

- | | | | | | |
|------|------|------|------|------|------|
| a) 0 | b) 1 | c) 2 | d) 3 | e) 4 | f) 5 |
|------|------|------|------|------|------|

2. Câte numere naturale n verifică inegalitățile $1 + 3 + 5 + \dots + 2017 \leq n \leq 2 + 4 + 6 + \dots + 2018$?

- | | | | | | |
|---------|---------|---------|---------|---------|---------|
| a) 1000 | b) 1009 | c) 1010 | d) 2019 | e) 2010 | f) 2018 |
|---------|---------|---------|---------|---------|---------|

3. Dacă $3a + 5b = 22$ și $4b + 7c = 15$, atunci $12a - 35c$ este:

- | | | | | | |
|-------|-------|-------|-------|-------|-------|
| a) 13 | b) 11 | c) 15 | d) 14 | e) 20 | f) 22 |
|-------|-------|-------|-------|-------|-------|

4. Valoarea cifrei x din egalitatea $\overline{1,9(1x)} + \overline{2,8(2x)} + \overline{3,7(3x)} + \dots + \overline{9,1(9x)} = 50$ este:

- | | | | | | |
|------|------|------|------|------|------|
| a) 0 | b) 1 | c) 2 | d) 3 | e) 4 | f) 5 |
|------|------|------|------|------|------|

5. Restul împărțirii numărului $7 + 7^2 + 7^3 + \dots + 7^{2017} + 7^{2018} + 7^{2019}$ la 57 este egal cu

- | | | | | | |
|------|------|------|------|------|------|
| a) 1 | b) 2 | c) 3 | d) 4 | e) 5 | f) 0 |
|------|------|------|------|------|------|

6. Se consideră tabloul

Rândul 1	1				
Rândul 2	2	3	4		
Rândul 3	5	6	7	8	9
.....					

Numărul 2018 se află pe rândul:

- | | | | | | |
|-------|-------|-------|-------|-------|-------|
| a) 41 | b) 42 | c) 43 | d) 44 | e) 45 | f) 46 |
|-------|-------|-------|-------|-------|-------|

Partea a II-a

1. Determinați numerele naturale \overline{ab} pentru care numărul $A = \overline{ab} + 2 \cdot \overline{ba} + 3a + 4b$ este pătrat perfect.

(Gazeta Matematică, nr. 3/2017)

2. Dacă x este număr natural, $x > 3$ și numerele x și $(x + 2)$ sunt prime, aflați un divizor propriu al numărului $(x + 4)$.

(Gazeta Matematică, nr. 12/1984)

⁰Notă:

- Pentru Partea I se va scrie pe foaia de concurs numai varianta corectă, fără demonstrație. Fiecare răspuns corect va primi câte 10 puncte.
- Pentru Partea a II-a se cere demonstrația completă, pentru care se vor acorda maxim 30 puncte.
- Se acordă 10 puncte din oficiu.
- Timp de lucru 2 ore.

Concursul interjudețean de matematică "ȘTEFAN VELOVAN" -ediția a XIV-a

<Barem de evaluare și notare - clasa a V-a>

Oficiu _____ Total 10p

Partea I

1. c)	2. c)	3. a)	4. f)	5. f)	6. e)
-------	-------	-------	-------	-------	-------

_____ Total 60p

Partea a II-a

- 1.
- ✓ $A = 10a + b + 2(10b + a) + 3a + 4b = 5(3a + 5b)$ 6p
- ✓ Rezultă că A este divizibil cu 5 și cum A este pătrat perfect, rezultă că $3a + 5b$ e divizibil cu 5. 3p
- ✓ Obținem $3a$ divizibil cu 5, de unde $a = 5$ 3p
- ✓ Atunci $A = 25(3 + b)$ este pătrat perfect implică $3 + b$ este pătrat perfect, de unde $b = 1$ sau $b = 6$. Numerele sunt 51 și 56. 3p
- _____ Total 15p

- 2.
- ✓ Numerele $x + 3$, $x + 4$, $x + 5$ sunt consecutive, deci unul dintre ele este divizibil cu 3. 6p
- ✓ Dacă $x + 3$ este divizibil cu 3, rezultă că x este divizibil cu 3, fals, deoarece singurul număr prim divizibil cu 3 este 3, iar $x > 3$ 3p
- ✓ Dacă $x + 5$ este divizibil cu 3, rezultă că $x + 2$ este divizibil cu 3, fals, deoarece $x + 2$ este un număr prim mai mare decât 5. 3p
- ✓ Deci $x + 4$ este divizibil cu 3. Rezultă că un divizor propriu al numărului $x + 4$ este 3. 3p
- _____ Total 15p

Concursul interjudețean de matematică "ȘTEFAN VELOVAN" -ediția a XIV-a

<Subiecte - clasa a VI-a>

Partea I

1. Fie a, b, c trei numere raționale pozitive astfel încât $\frac{a}{2b+3c} = \frac{2b}{a+3c} = \frac{3c}{a+2b}$. Valoarea produsului $(a+b+c) \left(\frac{1}{a} + \frac{1}{b} + \frac{1}{c} \right)$ este:

- | | | | | | |
|-------|-------|------|------|------|---------|
| a) 11 | b) 10 | c) 9 | d) 8 | e) 1 | f) 2018 |
|-------|-------|------|------|------|---------|

2. Medianele $[BE]$ și $[CF]$ ale triunghiului $\triangle ABC$ se taie în punctul G , iar medianele $[BP]$ și $[CQ]$ ale triunghiului $\triangle BGC$ se taie în punctul M . Raportul $\frac{AG}{GM}$ este egal cu:

- | | | | | | |
|------|------|--------|--------|--------|---------|
| a) 2 | b) 3 | c) 1,5 | d) 2,5 | e) 3,5 | f) 2,25 |
|------|------|--------|--------|--------|---------|

3. După o mărire de preț cu 20%, prețul unui obiect s-a micșorat cu 20%. Astfel prețul final al produsului este $p\%$ din prețul inițial. Valoarea lui p este:

- | | | | | | |
|-------|-------|-------|-------|-------|-------|
| a) 50 | b) 60 | c) 75 | d) 96 | e) 86 | f) 90 |
|-------|-------|-------|-------|-------|-------|

4. În triunghiul ascuțitunghic $\triangle ABC$ cu $AB < AC < BC$, mediatoarea laturii $[AC]$ intersectează latura BC în punctul M . Se știe că $AB = 8\text{cm}$ și $BC = 14\text{cm}$. Perimetrul triunghiului $\triangle ABM$ are valoarea egală cu:

- | | | | | | |
|---------|---------|---------|---------|---------|---------|
| a) 20cm | b) 21cm | c) 22cm | d) 23cm | e) 24cm | f) 25cm |
|---------|---------|---------|---------|---------|---------|

5. Fie numerele $a_1, a_2, \dots, a_n \in \{-1, 1\}$ și suma $S = |a_1 + a_2| + |a_2 + a_3| + \dots + |a_9 + a_{10}|$. Notăm cu b cea mai mică și cu c cea mai mare valoare pe care o poate avea S . Diferența $c - b$ este egală cu:

- | | | | | | |
|-------|-------|-------|-------|-------|-------|
| a) 10 | b) 11 | c) 14 | d) 15 | e) 18 | f) 20 |
|-------|-------|-------|-------|-------|-------|

6. În triunghiul $\triangle ABC$, notăm cu I punctul de intersecție al bisectoarelor unghiurilor $\sphericalangle B$ și $\sphericalangle C$. Fie $CD \perp BI$, $D \in BI$. Dacă $CD + BI = BD$, atunci $m(\sphericalangle BAC)$ este egală cu:

- | | | | | | |
|---------------|---------------|---------------|---------------|---------------|---------------|
| a) 15° | b) 20° | c) 30° | d) 45° | e) 60° | f) 90° |
|---------------|---------------|---------------|---------------|---------------|---------------|

Partea a II-a

1. Fie a un număr natural divizibil cu 8 și nedivizibil cu 16. Să se arate că produsul tuturor divizorilor săi naturali este pătrat perfect.

(Gazeta Matematică, nr. 11/2012)

2. În triunghiul $\triangle ABC$ înălțimea $[AD]$ și mediana $[AM]$ împart unghiul $\sphericalangle BAC$ în trei unghiuri congruente. Aflați măsurile unghiurilor triunghiului $\triangle ABC$.

⁰Notă:

- Pentru Partea I se va scrie pe foaia de concurs numai varianta corectă, fără demonstrație. Fiecare răspuns corect va primi câte 10 puncte.
- Pentru Partea a II-a se cere demonstrația completă, pentru care se vor acorda maxim 30 puncte.
- Se acordă 10 puncte din oficiu.
- Timp de lucru 2 ore.

Concursul interjudețean de matematică "ȘTEFAN VELOVAN" -ediția a XIV-a

<Barem de evaluare și notare - clasa a VI-a>

Oficiu _____ Total 10p

Partea I

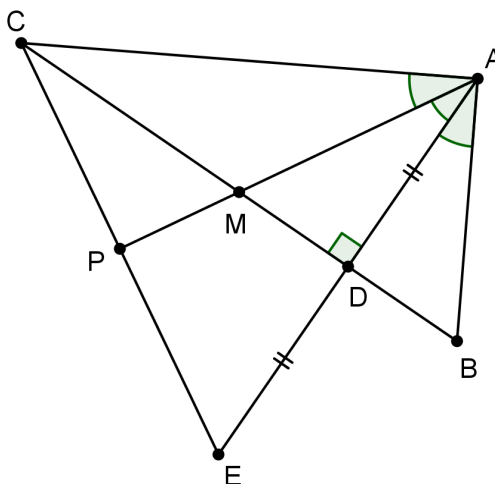
1. a)	2. b)	3. d)	4. c)	5. e)	6. f)
-------	-------	-------	-------	-------	-------

_____ Total 60p

Partea a II-a

- 1.
- ✓ $a = 2^3 \cdot p_1^{k_1} \cdot p_2^{k_2} \cdot \dots \cdot p_m^{k_m}$, unde p_1, p_2, \dots, p_m sunt numere prime impare. 2p
 - ✓ Fie d_1, d_2, \dots, d_n toți divizorii lui a 1p
 - ✓ Avem egalitatea $\{d_1, d_2, \dots, d_n\} = \left\{ \frac{a}{d_1}, \frac{a}{d_2}, \dots, \frac{a}{d_n} \right\}$ 2p
 - ✓ $d_1 \cdot d_2 \cdot \dots \cdot d_n = \frac{a}{d_1} \cdot \frac{a}{d_2} \cdot \dots \cdot \frac{a}{d_n} \Rightarrow d_1^2 \cdot d_2^2 \cdot \dots \cdot d_n^2 = a^n$ (1). 4p
 - ✓ $n = (3+1) \cdot (k_1+1) \cdot (k_2+1) \cdot \dots \cdot (k_n+1) = 4k$, $k \in \mathbb{N}$ (2). 2p
 - ✓ Din relațiile (1) și (2) rezultă $(d_1 \cdot d_2 \cdot \dots \cdot d_n)^2 = a^{4k}$ 2p
 - ✓ $(d_1 \cdot d_2 \cdot \dots \cdot d_n)^2 = (a^{2k})^2 \Rightarrow d_1 \cdot d_2 \cdot \dots \cdot d_n = a^{2k} = (a^k)^2$ 2p
- _____ Total 15p

2.



- ✓ Notăm cu E simetricul lui A față de D 2p
 - ✓ Triunghiul $\triangle BAD \equiv \triangle MAD$ (C.U.). 1p
 - ✓ $DM = BD \Rightarrow DM = \frac{BM}{2} \Rightarrow DM = \frac{MC}{2}$ (1). 1p
 - ✓ $[CD]$ este mediană în triunghiul $\triangle ACE$ (2). 1p
 - ✓ Din relațiile (1) și (2) rezultă că M este centrul de greutate al triunghiului $\triangle ACE$ (3). 2p
 - ✓ $[AP]$ și $[CD]$ sunt bisectoare în triunghiul $\triangle ACE$ (unde $\{P\} = AM \cap CE$). 1p
 - ✓ Deci M este punctul de intersecție al bisectoarelor triunghiului $\triangle ACE$ (4). 2p
 - ✓ Din relațiile (3) și (4) rezultă că triunghiul $\triangle ACE$ este echilateral. 2p
 - ✓ $m(\sphericalangle ACB) = \frac{m(\sphericalangle ACE)}{2} = \frac{60^\circ}{2} = 30^\circ$ 1p
 - ✓ $m(\sphericalangle CAD) = \frac{2}{3} \cdot m(\sphericalangle BAC) \Rightarrow 60^\circ = \frac{2}{3} \cdot m(\sphericalangle BAC) \Rightarrow m(\sphericalangle BAC) = 90^\circ$ 1p
 - ✓ $m(\sphericalangle ABC) = 180^\circ - [m(\sphericalangle BAC) + m(\sphericalangle ACB)] = 180^\circ - 120^\circ = 60^\circ$ 1p
- _____ Total 15p

Concursul interjudețean de matematică "ȘTEFAN VELOVAN" -ediția a XIV-a

<Subiecte - clasa a VII-a>

Partea I

1. Fie a, b, c numere reale astfel încât $a^2 + b^2 + c^2 = 14$ și $ab + bc + ac = 11$. Calculând $(a + b + c)^2$ se obține:

a) 25	b) 36	c) 49	d) 16	e) 27	f) 30
-------	-------	-------	-------	-------	-------

2. Dacă $a \cdot b = 2018$ și $b \cdot c = 2019$, atunci rezultatul calculului $\frac{1009\sqrt{2018} + a}{3\sqrt{2019} + c} \cdot \frac{b\sqrt{2019} + 673}{b\sqrt{2018} + 2}$ este:

a) $\frac{1009}{3}$	b) 2018	c) $\frac{2018}{3}$	d) 2019	e) 2017	f) $\frac{1}{3}$
---------------------	---------	---------------------	---------	---------	------------------

3. Dacă $B = 1 - \frac{1}{2} + \frac{1}{3} - \frac{1}{4} + \dots - \frac{1}{2018}$ și $C = \frac{1}{1009} + \frac{1}{1010} + \frac{1}{1011} + \dots + \frac{1}{2018}$, atunci:

a) $B = C$	b) $1009(B - C) = -1$	c) $2C = B$	d) $B = C - \frac{1}{1019}$	e) $C = B + 1$	f) $C = B - 1$
------------	-----------------------	-------------	-----------------------------	----------------	----------------

4. Fie $x, y \in \mathbb{R}$ astfel încât $3x^2 - 2\sqrt{6}x + 2y^2 + \sqrt{24}y + 5 = 0$. Care este valoarea produsului numerelor x și y ?

a) $2\sqrt{6}$	b) $-\sqrt{6}$	c) $\frac{\sqrt{3}}{2}$	d) $\frac{3}{\sqrt{2}}$	e) -1	f) 1
----------------	----------------	-------------------------	-------------------------	---------	--------

5. În trapezul $ABCD$, $AB \parallel CD$, $AB = 7\text{cm}$, $BC = 13\text{cm}$, $CD = 21\text{cm}$ și $AD = 15\text{cm}$. Aria trapezului $ABCD$ are valoarea de:

a) 150cm^2	b) 200cm^2	c) 168cm^2	d) 112cm^2	e) 252cm^2	f) 140cm^2
---------------------	---------------------	---------------------	---------------------	---------------------	---------------------

6. Latura unui romb este egală cu media geometrică a diagonalelor sale. Măsura unuia dintre unghiurile rombului este egală cu:

a) 15°	b) 30°	c) 45°	d) 60°	e) 75°	f) 90°
---------------	---------------	---------------	---------------	---------------	---------------

Partea a II-a

1. Fie n numere naturale, nenule și distincte a_1, a_2, \dots, a_n , astfel încât dintre oricare două unul este divizorul celuilalt. Să se arate că:

$$\frac{1}{a_1^2} + \frac{1}{a_2^2} + \dots + \frac{1}{a_n^2} < \frac{4}{3}.$$

(Gazeta Matematică, nr. 1/2009)

2. În trapezul isoscel $ABCD$, $AC \perp BD$. Paralela la baze dusă prin punctul de interecție a diagonalelor intersectează laturile neoparalele BC și AD în punctele P , respectiv R . Fie punctul $Q \in (BC)$, astfel încât $BQ = CP$. Demonstrați că:

- a) $QR = AD$
- b) $QR \perp AD$.

⁰Notă:

- Pentru Partea I se va scrie pe foaia de concurs numai varianta corectă, fără demonstrație. Fiecare răspuns corect va primi câte 10 puncte.
- Pentru Partea a II-a se cere demonstrația completă, pentru care se vor acorda maxim 30 puncte.
- Se acordă 10 puncte din oficiu.
- Timp de lucru 2 ore.

Concursul interjudețean de matematică "ȘTEFAN VELOVAN" -ediția a XIV-a

<Barem de evaluare și notare - clasa a VII-a>

Oficiu _____ Total 10p

Partea I

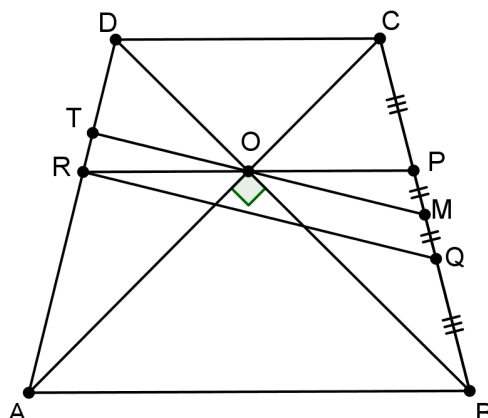
1. b)	2. a)	3. b)	4. e)	5. c)	6. b)
-------	-------	-------	-------	-------	-------

_____ Total 60p

Partea a II-a

- 1.
- ✓ Renotăm numerele crescător $1 \leq b_1 < b_2 < \dots < b_n$, cu $b_i \mid b_j$, oricare ar fi $i < j$ 2p
 - ✓ Rezultă $b_2 \geq 2b_1, b_3 \geq 2b_2 \geq 2^2b_1, \dots, b_n \geq 2^{n-1}b_1$ 3p
 - ✓ Avem $\frac{1}{a_1^2} + \frac{1}{a_2^2} + \dots + \frac{1}{a_n^2} = \frac{1}{b_1^2} + \frac{1}{b_2^2} + \dots + \frac{1}{b_n^2} \leq \frac{1}{b_1^2} + \frac{1}{2^2b_1^2} + \dots + \frac{1}{2^{2(n-1)}b_1^2} = \frac{1}{b_1^2} \left(1 + \frac{1}{4} + \frac{1}{4^2} + \dots + \frac{1}{4^{n-1}}\right)$. 5p
 - ✓ Finalizare $\frac{1}{a_1^2} + \frac{1}{a_2^2} + \dots + \frac{1}{a_n^2} \leq \frac{1}{b_1^2} \cdot \frac{1-\frac{1}{4^n}}{\frac{3}{4}} \leq \frac{1-\frac{1}{4^n}}{\frac{3}{4}} < \frac{4}{3}$ 5p
- _____ Total 15p

2.



- a)
- ✓ Dacă $\{O\} = AC \cap BD$ și $M = \text{mij}[BC]$, atunci OM este linie mijlocie în $\triangle PQR$ 3p
 - ✓ Deci $OM \parallel QR$ și $OM = \frac{QR}{2}$ 1p
 - ✓ OM este mediană corespunzătoare ipotenuzei în triunghiul $\triangle BOC \implies OM = \frac{BC}{2}$ 3p
 - ✓ Deci $QR = BC = AD$ 1p
- b)
- ✓ Dacă $MO \cap AD = \{T\}$, atunci $\sphericalangle MBO \equiv \sphericalangle MOB \equiv \sphericalangle DOT$ 2p
 - ✓ Cum $\sphericalangle OCB \equiv \sphericalangle TDO$, avem $m(\sphericalangle OTD) = m(\sphericalangle BOC) = 90^\circ$ 2p
 - ✓ Rezultă $MT \perp AD$ 2p
 - ✓ Finalizare: $QR \perp AD$ 1p
- _____ Total 15p

Concursul interjudețean de matematică "ȘTEFAN VELOVAN" -ediția a XIV-a

<Subiecte - clasa a VIII-a>

Partea I

1. Se consideră piramida patrulateră regulată $VABCD$ cu latura bazei $AB = 12\text{cm}$, iar înălțimea $VO = 6\sqrt{3}\text{cm}$. Care este măsura unghiului determinat de planele (VBC) și (VAD) ?

a) 60°	b) 30°	c) 45°	d) 90°	e) 180°	f) 120°
---------------	---------------	---------------	---------------	----------------	----------------

2. Se consideră expresia $E(x) = 2 \cdot \left(\frac{x^2 - x}{x^2 + 1} + \frac{2x^2}{x^3 - x^2 + x - 1} \right) \cdot \frac{x^2 - 1}{x^2} \cdot \left(\frac{5x^2 + 12x + 7}{2x^2 + 3x} \right)^{-1} - 1$. Care este valoarea $E\left(\frac{-9}{7}\right)$?

a) $\frac{1}{27}$	b) $\frac{3}{2}$	c) $\frac{1}{2}$	d) $\frac{1}{7}$	e) $\frac{13}{27}$	f) 8
-------------------	------------------	------------------	------------------	--------------------	------

3. Fie x, y numere naturale ce îndeplinesc relația $\sqrt{x} + \frac{5}{\sqrt{y}} \in \mathbb{N}$. Care este valoarea lui $\frac{y^2 - 25}{y - 1}$?

a) -24	b) 8	c) -7	d) 7	e) 10	f) 0
--------	------	-------	------	-------	------

4. Fie funcția $f: \mathbb{R} \rightarrow \mathbb{R}$, $f(x) = ax + b$, $a, b \in \mathbb{Z}$, care satisface simultan egalitățile $f(-10) + f(-9) + \dots + f(0) + f(1) + \dots + f(11) = 11$, $f(-1) \cdot f(1) = 0$. Rezultatul calculului $f(1) + f(2) + \dots + f(2018)$ este:

a) 2017	b) 2018	c) $5 \cdot 2019$	d) $-3 \cdot 2017$	e) $2018 \cdot 2017$	f) $-2017 \cdot 1009$
---------	---------	-------------------	--------------------	----------------------	-----------------------

5. Se consideră inecuația $\frac{1}{1 \cdot 2} + \frac{1}{2 \cdot 3} + \dots + \frac{1}{5x \cdot (5x + 1)} \leq \frac{5}{6}$, $x \in \mathbb{N}^*$. Care este valoarea lui $x^2 + 2018$?

a) 2018	b) 2034	c) 2022	d) 2019	e) 2027	f) 2043
---------	---------	---------	---------	---------	---------

6. Un paralelipiped dreptunghic $ABCD A' B' C' D'$ are dimensiunile $AB = 6\text{ cm}$, $BC = 6\sqrt{3}\text{ cm}$ și $AA' = 6\text{ cm}$. Care este valoarea sinusului unghiului format de dreptele AC' și MN , unde M este mijlocul lui $(A'B')$, iar N este mijlocul lui $(A'D')$?

a) $\frac{\sqrt{3}}{4}$	b) $\frac{\sqrt{5}}{3}$	c) $\frac{\sqrt{6}}{4}$	d) $\frac{\sqrt{6}}{5}$	e) $\frac{2}{\sqrt{5}}$	f) $\frac{-\sqrt{3}}{3}$
-------------------------	-------------------------	-------------------------	-------------------------	-------------------------	--------------------------

Partea a II-a

1. Un paralelipiped dreptunghic are dimensiunile x, y, z și diagonala d . Arătați că

$$\frac{d^4}{ad^4 + bx^4} + \frac{d^4}{ad^4 + by^4} + \frac{d^4}{ad^4 + bz^4} \geq \frac{6\sqrt{a} - \sqrt{b}}{2a\sqrt{a}}, \text{ oricare ar fi } a > 0 \text{ și } b \geq 0.$$

(Gazeta Matematică)

2. În cubul $ABCD A' B' C' D'$, paralela dusă prin O (centrul feței $ADD'A'$) la AC intersectează planul $(BB'C')$ în T . Să se determine sinusul unghiului format de planele (CTO) și $(AB'D')$.

(Gazeta Matematică)

⁰Notă:

- Pentru Partea I se va scrie pe foaia de concurs numai varianta corectă, fără demonstrație. Fiecare răspuns corect va primi câte 10 puncte.
- Pentru Partea a II-a se cere demonstrația completă, pentru care se vor acorda maxim 30 puncte.
- Se acordă 10 puncte din oficiu.
- Timp de lucru 2 ore.

Concursul interjudețean de matematică "ȘTEFAN VELOVAN" -ediția a XIV-a

<Barem de evaluare și notare - clasa a VIII-a>

Oficiu _____ Total 10p

Partea I

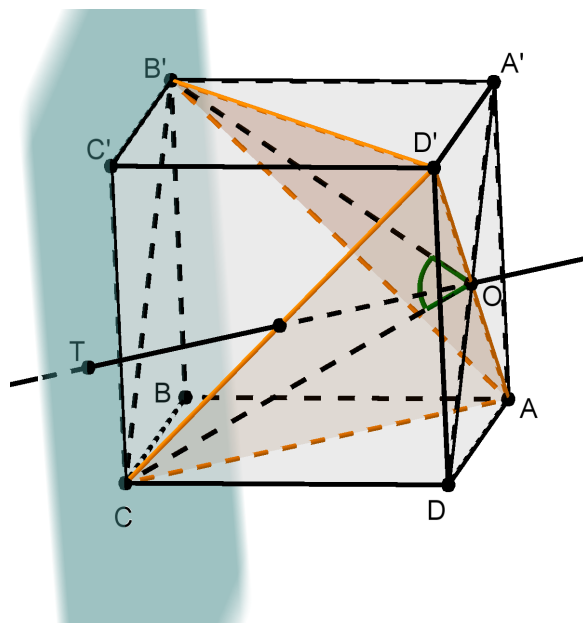
1. a)	2. c)	3. f)	4. f)	5. d)	6. e)
-------	-------	-------	-------	-------	-------

_____ Total 60p

Partea a II-a

- 1.
- ✓ Notăm $S = \frac{d^4}{ad^4+bx^4} + \frac{d^4}{ad^4+by^4} + \frac{d^4}{ad^4+bz^4}$. Atunci putem scrie. 2p
 - ✓ $aS = 1 - \frac{bx^4}{ad^4+bx^4} + 1 - \frac{by^4}{ad^4+by^4} + 1 - \frac{bz^4}{ad^4+bz^4} = 3 - b\left(\frac{x^4}{ad^4+bx^4} + \frac{y^4}{ad^4+by^4} + \frac{z^4}{ad^4+bz^4}\right)$ 4p
 - ✓ Folosind inegalitatea mediilor, deducem $\frac{ad^4+bx^4}{2} \geq d^2x^2\sqrt{ab}$, prin urmare avem. 2p
 - ✓ $\frac{x^4}{ad^4+bx^4} \leq \frac{x^2}{2d^2\sqrt{ab}}$ 2p
 - ✓ Scriind toate relațiile, vom obține prin însumare $\frac{x^4}{ad^4+bx^4} + \frac{y^4}{ad^4+by^4} + \frac{z^4}{ad^4+bz^4} \leq \frac{1}{2\sqrt{ab}}$ 2p
 - ✓ Revenind, avem $S \geq \frac{6\sqrt{a}-\sqrt{b}}{2a\sqrt{a}}$, ceea ce trebuia demonstrat. 3p
- _____ Total 15p

2.



- ✓ Se observă că AD' este dreapta comună a planelor (CTO) și $(AB'D')$ 2p
 - ✓ Unghiul format de planele (CTO) și $(AB'D')$ este $\widehat{B'OC}$ (justificare). 8p
 - ✓ Avem $S_{B'OC} = \frac{B'C \cdot OO'}{2} = \frac{OC \cdot OB' \cdot \sin \widehat{B'OC}}{2} \Rightarrow \sin \widehat{B'OC} = \frac{a\sqrt{2} \cdot a}{OC^2} = \frac{a^2\sqrt{2}}{a^2 + \frac{a^2}{2}} = \frac{2\sqrt{2}}{3}$; am notat cu a latura cubului. 5p
- _____ Total 15p